


Министерство образования Российской Федерации
Центральный оргкомитет Всероссийских олимпиад

XXXVII Всероссийская олимпиада школьников по физике

Зональный этап

Экспериментальный тур

Методическое пособие



МФТИ, 2002/2003 уч.г.

Комплект задач подготовлен методической комиссией по физике
Центрального оргкомитета Всероссийских олимпиад школьников
Министерства образования Российской Федерации
Тел.: (095) 408-80-77, 408-86-95.
E-mail: vip@pop3.mipt.ru

Авторы задач

9 класс
1. Дунин С.
2. Крюков А.

10 класс
1. Кузьмичев С.
2. Шведов О.

11 класс
1. Шведов О.
2. Слободянин В.

Общая редакция — Дунин С., Слободянин В., Чудновский А.

Оформление и верстка — Чудновский А., Ильин А., Самокотин А.

При подготовке оригинал-макета
использовалась издательская система L^AT_EX 2_ε.
© Авторский коллектив
Подписано в печать 11 марта 2003 г. в 16:39.

141700, Московская область, г. Долгопрудный
Московский физико-технический институт

Условия

9 класс

Задача 1. Плотность тела

Определить плотность тела. Плотность воды $\rho_0 = 1000 \text{ кг/м}^3$.

Оборудование. Два сосуда (высокий, но узкий и широкий, но низкий), деревянный цилиндр, блок, штатив, кусок проволоки, нить, миллиметровая бумага, скотч, вода, тело неизвестной плотности.

Задача 2. Фокус зеркала

Параболическим называется зеркало, которое в любом сечении, проходящем через ось симметрии, имеет форму параболы. Известно, что если на такое зеркало падают лучи света параллельно оси симметрии, то после отражения все они пересекаются в одной точке, называемой фокусом. На выданном вам листе начерчен фрагмент параболы и проведены линии, вдоль которых должны падать лучи света. С помощью имеющегося оборудования найдите положение точки фокуса.

Оборудование. Лист картона формата А3, 4 булавки с круглыми головками, зеркало, линейка без делений, лист бумаги с чертежом.

10 класс

Задача 1. Пластилин в трубке

Определите длину l_1 пластилиновой пробки, вставленной с одной стороны в цилиндрическую трубку (рис. 1).

Оборудование. Трубка с пластилиновой пробкой, линейка, нитки, брусок из пластилина известной массы, пластмассовый нож.

ВНИМАНИЕ. Вскрывать заклеенный конец трубки и как-либо нарушать пластилиновую пробку запрещено.

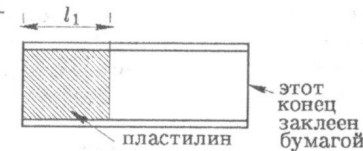


Рис. 1

Задача 2. Почти равные сопротивления

Расположите выданные вам неизвестные резисторы в порядке убывания сопротивлений $R_1 > R_2 > R_3 > R_4$. Найдите R_1, R_2, R_3, R_4 . Определите с как можно большей точностью отношения $(R_1 - R_2)/R_1$ и $(R_3 - R_4)/R_3$, про которые известно, что они много меньше единицы.

Оборудование. Источник тока с неизвестным внутренним сопротивлением, резистор с известным сопротивлением R_0 , четыре резистора с неизвестными сопротивлениями, многопредельный вольтметр, который можно считать идеальным, соединительные провода.

11 класс

Задача 1. Неизвестные резисторы

В «черном ящике» с тремя выводами собрана схема (рис. 2). Напряжение U источника тока задано. Один из резисторов R_1, R_2, R_3, R_4, R_5 заменен соединительным проводом. Определите, какой это резистор. Сопротивления каких резисторов можно найти, используя имеющееся оборудование? Найдите эти сопротивления. Сопротивления проводов, источника тока, амперметра малы.

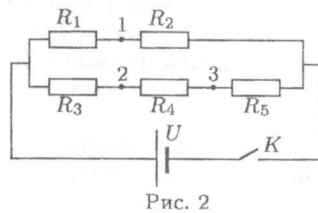


Рис. 2

Оборудование. «Черный ящик», амперметр, соединительные провода.

Задача 2. «Биения»

В колебательной системе, состоящей из двух математических маятников, между маятниками существует слабая связь, осуществляемая за счет системы подвеса (рис. 3). Если в системе возбудить колебания первого маятника (например, груз m_1) в плоскости, перпендикулярной плоскости рисунка, то с течением времени амплитуда колебаний второго маятника (груз m_2) начнет возрастать, а первого — убывать. Через некоторое время τ колебания первого груза практически прекратятся, а амплитуда колебаний второго маятника станет почти такой же, какой была вначале у первого маятника.

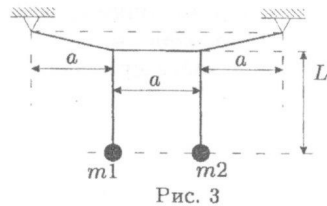


Рис. 3

Далее амплитуда колебаний второго маятника начнет уменьшаться, а первого — возрастать, и через время $T = 2\tau$ после возбуждения колебаний амплитуды колебаний маятников станут такими же, как и в начале эксперимента. Такие периодические изменения во времени амплитуды колебаний называются биениями.

Оказывается, период T биений зависит от длины L подвеса математических маятников по закону: $T = AL^n$, где A — коэффициент пропорциональности, а n — показатель степени.

Определите численное значение показателя степени n , изменяя длину маятника от 15 см до 1 м.

Оборудование. Штатив с лапкой, планка с закрепленным на ней шнуром (рис. 4), две гайки М6 — М8 (грузы m_1 и m_2), нитки (три куса по 1 м), рулетка, секундомер, миллиметровая бумага.

Примечание. Штатив следует установить на край стола так, чтобы длина маятника могла достигать 1 метра.



Рис. 4

Возможные решения

9 класс

Задача 1. Плотность тела

Рекомендации для организаторов. Выданной проволоки должно быть достаточно для того, чтобы заставить деревянный цилиндр плавать вертикально погруженным почти полностью в высоком сосуде, в качестве которого можно взять школьную мензурку. Диаметр блока должен быть не менее диаметра высокого сосуда, а размеры исследуемого тела — не позволять погружать его в высокий сосуд. Вес исследуемого тела должен быть приблизительно на 25 ÷ 30% меньше веса деревянного цилиндра, а плотность тела — больше плотности воды. Длина нити ≈ 70 см.

Решение. На одном конце деревянного цилиндра намотаем такое количество проволоки, чтобы он плавал в воде вертикально, будучи погруженным почти полностью. На боковой стенке деревянного цилиндра закрепим при помощи скотча полоску миллиметровой бумаги, создав тем самым возможность измерять глубину погружения цилиндра. К верхней части цилиндра привяжем кусок нити, второй конец которой привяжем к исследуемому телу и перекинем нить через блок. Цилиндр опустим в высокий сосуд с водой, и замерим, на какую величину меняется длина его погруженной части в том случае, когда исследуемое тело подвешено в воздухе и, когда в воде (в широком сосуде). При измерениях примем меры, чтобы учесть трение в оси блока (или удостоверимся, что им можно пренебречь).

Пусть под действием нити цилиндр в первом случае дополнительно выдвигается из воды на высоту H_1 , а во втором — на H_2 . Тогда, из-за однородности цилиндра и условия равновесия всей системы на блоке, отношение веса исследуемого тела в воздухе к отношению его веса в воде равно H_1/H_2 . Отсюда плотность тела $\rho = \rho_0 H_1 / (H_1 - H_2)$.

Задача 2. Фокус зеркала

Рекомендации для организаторов. Приблизительные размеры зеркала: 3 см в высоту и 5 см в ширину; зеркало должно быть снабжено подставкой, позволяющей устанавливать его на столе вертикально (можно приклеить на заднюю сторону деревянный брусочек) так, чтобы нижний край зеркала совпадал с плоскостью стола. В качестве линейки без делений ученикам можно предложить незаточенный граненый карандаш или обычную линейку, у которой деления закрыты непрозрачной клейкой лентой.

Решение. Метод нахождения фокуса следует из того, что на малом участке вблизи какой-нибудь точки, участок кривой практически совпадает с участком касательной, проведенной к кривой в этой точке. Поэтому луч, падающий в какой-нибудь точке на изогнутое зеркало, отразится от него под тем же углом, под которым он отразится от плоского зеркала, установленного в той же точке по касательной к линии, образующей поверхность изогнутого зеркала. Будем устанавливать выданное зеркало так, чтобы его плоскость как можно точнее совпадала с касательной к вычерченной параболе в точках, где парабола пересекается с проведенными параллельными линиями, и каждый раз с помощью булавок и линейки строить ход отраженного луча. Для этого надо выставить две булавки на соответствующей линии, а две — так, чтобы они были на одной прямой с изображением первых булавок в зеркале. Прямая, проведенная через точки, в которые вколоты две вторые булавки, и определит ход отраженного луча.

Из-за приближенности определения положения плоского зеркала и неточ-

ностей построения проведенные лучи будут пересекаться в близких, но не совпадающих точках. Нарисуем окружность минимального радиуса, охватывающую все точки пересечения. Центр окружности можно принять за положение фокуса, а ее радиус — считать оценкой погрешности (более точной оценкой будет радиус окружности, включающей две трети полученных точек).

10 класс

Задача 1. Пластилин в трубе

Рекомендации для организаторов. В качестве трубки целесообразно взять металлопластиковую водопроводную трубу диаметром 1/2 дюйма (алюминиевая основа трубы покрыта пластиком с двух сторон). Такие трубы можно приобрести на рынке стройматериалов. Длина выдаваемого участником олимпиады отрезка трубы $l_0 = 15 \div 20$ см. Длина пластилиновой пробки $l_1 \approx 5$ см. Выдаваемый участникам пластилиновый брусок должен быть правильной формы (постоянного поперечного сечения). Лучше всего выдавать пластилин непосредственно из коробки. Масса выдаваемого пластилинового бруска должна быть больше массы пластилиновой пробки.

Решение. Пластилиновый брусок прямоугольного сечения (размеры $a \times b$) прикрепляем к трубке так, чтобы один из концов бруска совпадал с концом трубки. Изменяя длину бруска l_2 , добиваемся, чтобы при подвешивании за середину трубки она принимала горизонтальное положение. Уравнение моментов относительно полюса O :

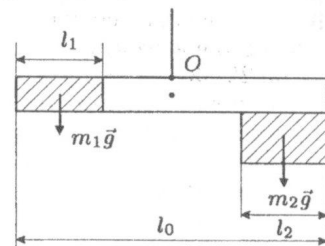


Рис. 5

$$m_1 g(l_0/2 - l_1/2) = m_2 g(l_0/2 - l_2/2), \quad \text{откуда}$$

$$m_1(l_0 - l_1) = m_2(l_0 - l_2). \quad (1)$$

Массы кусков пластилина

$$m_1 = \rho \frac{\pi d^2}{4} l_1, \quad (2)$$

$$m_2 = \rho a b l_2, \quad (3)$$

где d — диаметр трубки, a и b — размеры прикрепленного бруска. Из уравнений (1-3) получаем:

$$l_1^2 - l_1 l_0 + \alpha(l_0 - l_2)l_2 = 0,$$

где $\alpha = S/S_0 = 4ab/(\pi d^2)$. Решая это квадратное уравнение относительно l_1 , находим

$$l_1 = \frac{l_0}{2} - \sqrt{\frac{l_0^2}{4} - \alpha(l_0 - l_2)l_2}. \quad (4)$$

Здесь учтено, что $l_1 < l_0/2$. С помощью линейки проводим все необходимые измерения, после чего по формуле (4) вычисляем l_1 .

Задача 2. Почти равные сопротивления

Рекомендации для организаторов. Величины неизвестных сопротивлений R_1, R_3 и известного сопротивления R_0 должны быть одного порядка, но разными (могут отличаться в два-три раза, например, $R_1 \approx R_2 \approx 300$ Ом, $R_3 \approx R_4 \approx 200$ Ом, $R_0 \approx 500$ Ом). Малые отношения $(R_1 - R_2)/R_1$ и $(R_3 - R_4)/R_3$ должны быть также одного порядка, но разными (например, $(R_1 - R_2)/R_1 \approx 0,04$, $(R_3 - R_4)/R_3 \approx 0,03$). Пару резисторов с близкими сопротивлениями можно изготовить, взяв два одинаковых резистора (например 300 Ом) и подключив к одному из них резистор с большим сопротивлением (несколько килоом). Многопредельный вольтметр должен с достаточной точностью измерять как напряжения порядка ЭДС батарейки \mathcal{E} , так и напряжения порядка $\mathcal{E}(R_1 - R_2)/R_1$, имея на всех пределах внутренние сопротивления, много большие сопротивления резисторов. При тестировании задачи использовался цифровой мультиметр ИТ20В и батарейка с ЭДС порядка 5 В.

Решение. Грубо значение сопротивления R_x можно найти, собрав схему (рис. 6) из батарейки, неизвестного резистора R_x и резистора известного сопротивления R_0 . Тогда отношение сопротивлений равно отношению напряжений на резисторах, которые измеряются вольтметром на «грубом» пределе. Чтобы найти отношения $(R_1 - R_2)/R_1$ и $(R_3 - R_4)/R_3$ с большей точностью, соберем две «мостовые схемы» (рис. 7 и рис. 8). Тогда напряжения U_{12} будут одинаковыми, а измеряемые вольтметром напряжения — малыми (напряжение U_{12} можно измерить на грубом пределе). Показания вольтметра в первом случае

$$U_1 = U_{12} \left(\frac{R_1}{R_1 + R_2} - \frac{R_3}{R_3 + R_4} \right),$$

во втором случае

$$U_2 = U_{12} \left(\frac{R_1}{R_1 + R_2} - \frac{R_4}{R_3 + R_4} \right).$$

Тогда $\frac{U_2}{U_{12}} - \frac{U_1}{U_{12}} = \frac{R_3 - R_4}{R_3 + R_4}$, $\frac{U_2}{U_{12}} + \frac{U_1}{U_{12}} = \frac{R_1 - R_2}{R_1 + R_2}$. Отсюда находим

$$\frac{R_3 - R_4}{R_3} \approx 2 \frac{R_3 - R_4}{R_3 + R_4} = 2 \left(\frac{U_2}{U_{12}} - \frac{U_1}{U_{12}} \right),$$

$$\frac{R_1 - R_2}{R_1} \approx 2 \frac{R_1 - R_2}{R_1 + R_2} = 2 \left(\frac{U_2}{U_{12}} + \frac{U_1}{U_{12}} \right).$$

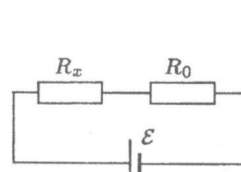


Рис. 6

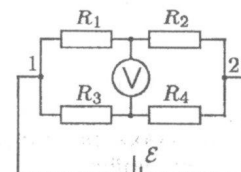


Рис. 7

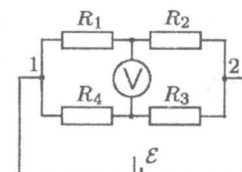


Рис. 8

11 класс

Задача 1. Неизвестные резисторы

Рекомендации для организаторов. Соединительным проводом нужно заменить резистор R_3 или R_5 . Сопротивления резисторов R_1, R_2, R_3, R_4 должны быть порядка 1 кОм (но разными). Амперметр должен измерять силу тока U/R_i и $2U/R_i$. Сопротивление источника тока и амперметра должно быть много меньше R_1, R_2, R_3, R_4 . Для измерения силы тока можно использовать школьный миллиамперметр или цифровой мультиметр. Вся цепь, схема которой изображена на рисунке, помещается в «черный ящик», из которого делаются три вывода (от точек 1, 2 и 3). Желательно выводы делать из проводов разного цвета. Ручку (кнопку) ключа K следует вывести из «черного ящика».

Решение. Не используя резистор, можно провести следующие измерения:

N	Измерение	Показание амперметра
1	Замыкаем выводы 2 и 3 амперметром	$I_1 = \frac{U}{R_3 + R_5}$
2	Замыкаем выводы 1 и 2 проводом, 2 и 3 амперметром	$I_2 = U \frac{R_2}{R_2 + R_5} \left(\frac{R_1 R_3}{R_1 + R_3} + \frac{R_2 R_5}{R_2 + R_5} \right)^{-1}$
3	Замыкаем выводы 1 и 3 проводом, 2 и 3 амперметром	$I_3 = U \frac{R_1}{R_1 + R_3} \left(\frac{R_1 R_3}{R_1 + R_3} + \frac{R_2 R_5}{R_2 + R_5} \right)^{-1}$
3'	Замыкаем выводы 2 и 3 проводом, 1 и 3 амперметром	$I'_3 = I_2 - I_3$
4	Замыкаем выводы 1 и 2 амперметром	$I_4 = U \left(\frac{R_1}{R_1 + R_3} - \frac{R_2}{R_2 + R_4 + R_5} \right) \left(\frac{R_1 R_3}{R_1 + R_3} + \frac{R_2(R_4 + R_5)}{R_2 + R_4 + R_5} \right)^{-1}$
5	Замыкаем выводы 1 и 3 амперметром	$I_5 = U \left(\frac{R_1}{R_1 + R_3 + R_4} - \frac{R_2}{R_2 + R_5} \right) \left(\frac{R_1(R_3 + R_4)}{R_1 + R_3 + R_4} + \frac{R_2 R_5}{R_2 + R_5} \right)^{-1}$

Результаты измерений в зависимости от случая приведены в таблице. Верные утверждения обозначены +, неверные – знаком –, возможные – ±.

	$R_1 = 0$	$R_2 = 0$	$R_3 = 0$	$R_4 = 0$	$R_5 = 0$
$I_3 = 0$	+	-	-	-	-
$I_2 = 0$	-	+	-	-	-
$I_1 = I_2$	-	-	+	±	-
$I'_3 = I_4$	-	-	+	+	-
$I'_3 = I_5$	-	-	-	+	+
$I_1 = I_3$	-	-	-	±	+

В предложенных «черных ящиках» реализовывался случай $R_3 = 0$ или $R_5 = 0$, что можно обнаружить из свойств $I_1 = I_2, I'_3 = I_4 \neq I_5$ или $I_1 = I_3, I'_3 = I_5 \neq I_4$. Пусть $R_5 = 0$, тогда из опытов 1-5 можно найти R_1 и R_3 :

$$R_3 = \frac{U}{I_1}; \quad \frac{R_1 R_3}{R_1 + R_3} = \frac{U}{I_2}; \quad R_1 = \frac{U}{I_5}.$$

Сопротивления R_2 и R_4 определить с помощью имеющихся приборов нельзя.

Задача 2. «Бисения»

Рекомендации для организаторов. Длина планки должна составлять ~ 60 см. В ее края следует вбить гвоздики, к которым прикрепить шнур, который не должен провисать. В качестве шнура можно использовать капроновую нить или рыболовную леску (подойдут и обычные толстые нитки).

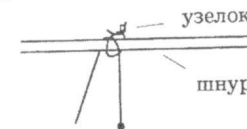


Рис. 9

Решение. Подвес математического маятника делаем длиной ~ 1 м, перекидываем его через шнур и отдельной ниткой привязываем его к шнуру (рис. 10) так, чтобы, подтягивая нить подвеса, можно было регулировать длину L маятника. Для 6 ÷ 7 значений L измеряем период биений T .

Прологарифмируем данную в условии зависимость $T(L)$:

$$\ln T = \ln A + n \ln L, \quad \text{откуда} \quad n = \frac{\Delta \ln T}{\Delta \ln L}.$$

Легко видеть, что показатель степени равен тангенсу угла наклона графика зависимости T от L в координатах $\ln L$ (ось абсцисс) и $\ln T$ (ось ординат).

При аккуратных измерениях получается $n = 1,5 \pm 0,1$.

В дополнение к приведенному решению заметим, что такое же значение $n = 1,5$ получается при теоретическом решении дифференциальных уравнений, описывающих колебания системы маятников. Период биений

$$T = \left(\frac{F}{mg^{3/2}} \right) L^{3/2}.$$

Здесь F — сила натяжения шнура.